

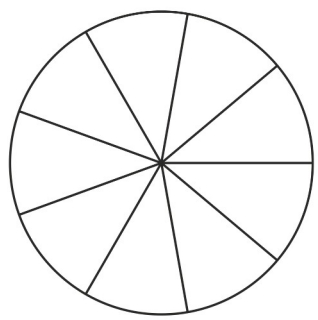
| Zahlbereich |        |        |        |        |        |        |         |           |            | Rechenoperationen |        |               |              |          | Grundlagen  |                |          |        |          |        |        |                |               |                  |       |
|-------------|--------|--------|--------|--------|--------|--------|---------|-----------|------------|-------------------|--------|---------------|--------------|----------|-------------|----------------|----------|--------|----------|--------|--------|----------------|---------------|------------------|-------|
| bis 9       | bis 10 | bis 20 | bis 30 | bis 40 | bis 50 | bis 70 | bis 100 | bis 1.000 | bis 10.000 | größer 10.000     | ohne 0 | ohne Übertrag | mit Merkwahl | Addition | Subtraktion | Multiplikation | Division | Brüche | Prozente | Zahlen | Mengen | Ganzes / Teile | Dezimalsystem | Bruchdarstellung | Kreis |

Name | Datum

40\_11\_1 [202] Bruchrechnung – Bruchdarstellung Kreis bis 12

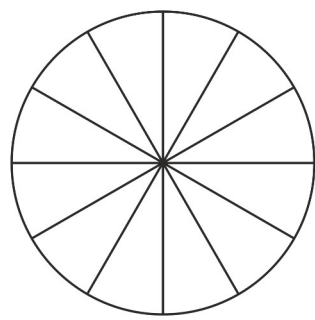
### Ein Bruchteil des Kreises

Bestimme den Zähler und zeichne den Bruchteil des Kreises in die Zeichnung ein.



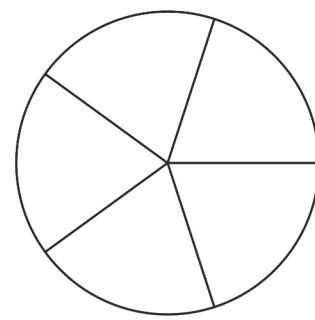
$$\frac{5}{9}$$

Zähler  
Nenner



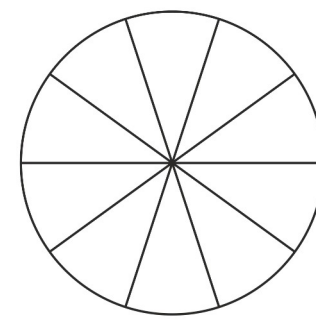
$$\frac{6}{12}$$

Zähler  
Nenner



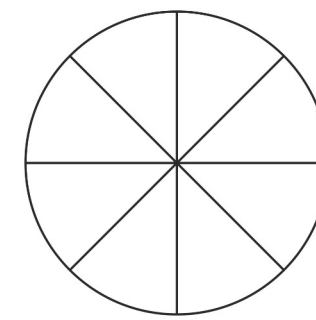
$$\frac{3}{5}$$

Zähler  
Nenner

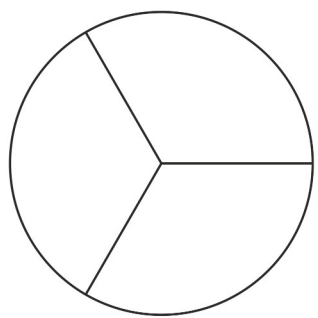


$$\frac{7}{10}$$

Zähler  
Nenner

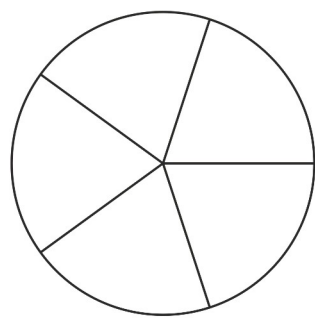


$$\frac{2}{8}$$



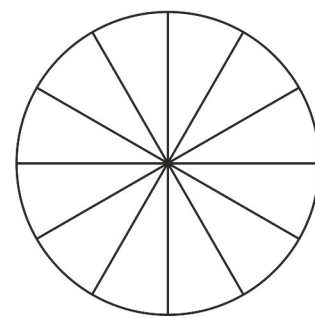
$$\frac{1}{3}$$

Zähler  
Nenner



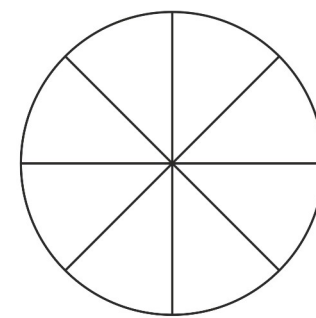
$$\frac{3}{5}$$

Zähler  
Nenner



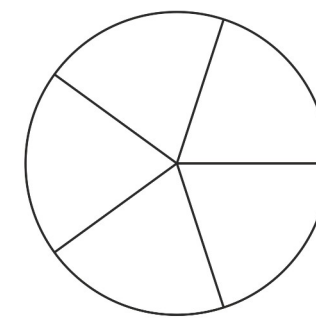
$$\frac{3}{12}$$

Zähler  
Nenner



$$\frac{5}{8}$$

Zähler  
Nenner



$$\frac{3}{5}$$

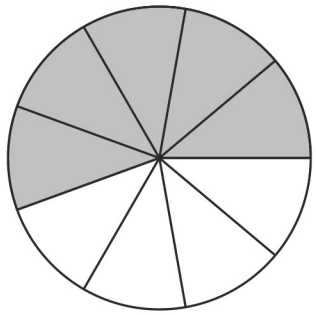


| Zahlbereich |        |        |        |        |        |        |         |           |            | Rechenoperationen |        |               |              |          | Grundlagen  |                |          |        |          |        |        |                |               |                  |       |
|-------------|--------|--------|--------|--------|--------|--------|---------|-----------|------------|-------------------|--------|---------------|--------------|----------|-------------|----------------|----------|--------|----------|--------|--------|----------------|---------------|------------------|-------|
| bis 9       | bis 10 | bis 20 | bis 30 | bis 40 | bis 50 | bis 70 | bis 100 | bis 1.000 | bis 10.000 | größer 10.000     | ohne 0 | ohne Übertrag | mit Merkmahl | Addition | Subtraktion | Multiplikation | Division | Brüche | Prozente | Zahlen | Mengen | Ganzes / Teile | Dezimalsystem | Bruchdarstellung | Kreis |

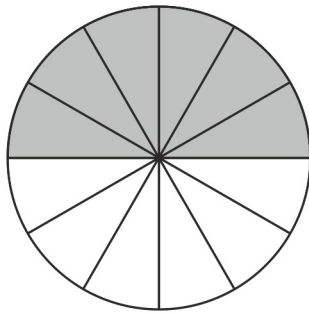
## 40\_11\_1 [202] Bruchrechnung – Bruchdarstellung Kreis bis 12

**Ein Bruchteil des Kreises**

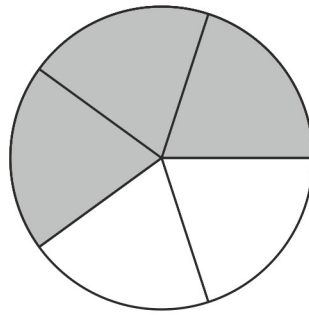
Bestimme den Zähler und zeichne den Bruchteil des Kreises in die Zeichnung ein.



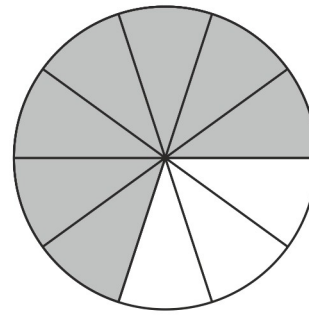
$$\frac{5}{9}$$

Zähler  
Nenner

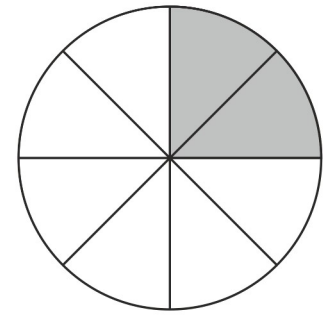
$$\frac{6}{12}$$

Zähler  
Nenner

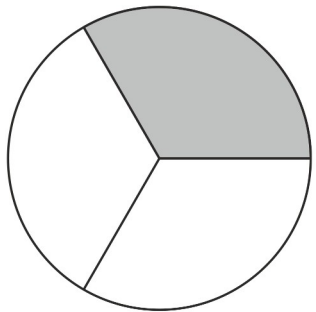
$$\frac{3}{5}$$

Zähler  
Nenner

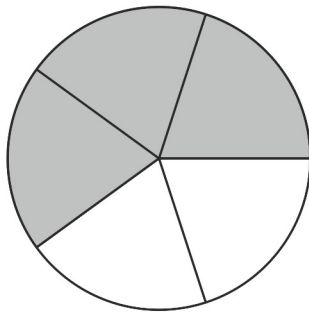
$$\frac{7}{10}$$

Zähler  
Nenner

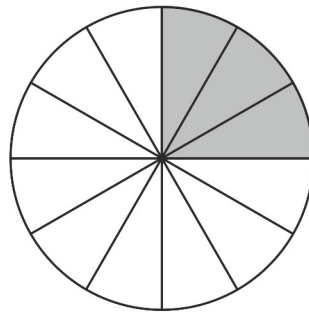
$$\frac{2}{8}$$



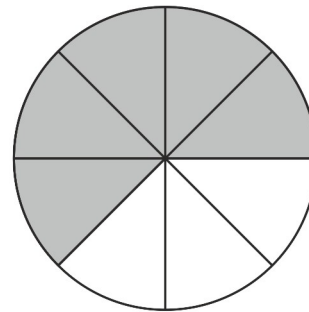
$$\frac{1}{3}$$

Zähler  
Nenner

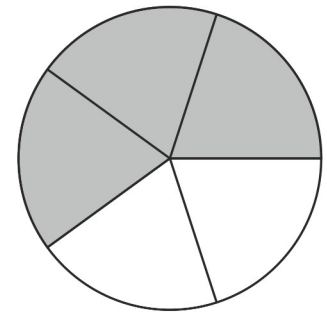
$$\frac{3}{5}$$

Zähler  
Nenner

$$\frac{3}{12}$$

Zähler  
Nenner

$$\frac{5}{8}$$

Zähler  
Nenner

$$\frac{3}{5}$$

