

Zahlbereich											Rechenoperationen					Grundlagen				Uhrzeit	Volle Stunden	ablesen & eintragen
9	10	20	30	40	50	70	100	1.000	10.000	größer 10.000	Addition	Subtraktion	Multiplikation	Division	Brüche	Prozente	Zahlen	Mengen	Ganzes / Teile			
bis	bis	bis	bis	bis	bis	bis	bis	bis	bis	ohne 0											ohne Übertrag	mit Merkmahl

Name | Datum


Der kleine Zeiger heißt Stundenzeiger und der große Zeiger heißt Minutenzeiger.

74\_10\_3 [238] Analog Uhr - Uhrzeit, 24 Stunden


**Notiere die beiden Uhrzeit unter der jeweiligen Uhr.**

24 Stunden – ganze Stunden

Wie spät ist es?




\_\_\_\_ : \_\_\_\_ Uhr  
 \_\_\_\_ : \_\_\_\_ Uhr




\_\_\_\_ : \_\_\_\_ Uhr  
 \_\_\_\_ : \_\_\_\_ Uhr




\_\_\_\_ : \_\_\_\_ Uhr  
 \_\_\_\_ : \_\_\_\_ Uhr



\_\_\_\_ : \_\_\_\_ Uhr  
 \_\_\_\_ : \_\_\_\_ Uhr




\_\_\_\_ : \_\_\_\_ Uhr  
 \_\_\_\_ : \_\_\_\_ Uhr



\_\_\_\_ : \_\_\_\_ Uhr  
 \_\_\_\_ : \_\_\_\_ Uhr




\_\_\_\_ : \_\_\_\_ Uhr  
 \_\_\_\_ : \_\_\_\_ Uhr




\_\_\_\_ : \_\_\_\_ Uhr  
 \_\_\_\_ : \_\_\_\_ Uhr




\_\_\_\_ : \_\_\_\_ Uhr  
 \_\_\_\_ : \_\_\_\_ Uhr



\_\_\_\_ : \_\_\_\_ Uhr  
 \_\_\_\_ : \_\_\_\_ Uhr



\_\_\_\_ : \_\_\_\_ Uhr  
 \_\_\_\_ : \_\_\_\_ Uhr



\_\_\_\_ : \_\_\_\_ Uhr  
 \_\_\_\_ : \_\_\_\_ Uhr

Der kleine Zeiger heißt Stundenzeiger.

Der große Zeiger heißt Minutenzeiger.



Zahlbereich											Rechenoperationen					Grundlagen							
9	10	20	30	40	50	70	100	1.000	10.000	größer 10.000	Addition	Subtraktion	Multiplikation	Division	Brüche	Prozente	Zahlen	Mengen	Ganzes / Teile	Dezimalsystem	Uhrzeit	Volle Stunden	ablesen & eintragen
bis	bis	bis	bis	bis	bis	bis	bis	bis	bis	größer 10.000													
									ohne 0	ohne Übertrag													
									mit Merksatz														

Der kleine Zeiger heißt Stundenzeiger und der große Zeiger heißt Minutenzeiger.


74\_10\_3 [238] Analog Uhr - Uhrzeit, 24 Stunden

### Notiere die beiden Uhrzeit unter der jeweiligen Uhr.

24 Stunden – ganze Stunden

Wie spät ist es?

Lösung



6 : 00 Uhr  
18 : 00 Uhr




4 : 00 Uhr  
16 : 00 Uhr




11 : 00 Uhr  
23 : 00 Uhr



10 : 00 Uhr  
22 : 00 Uhr



6 : 00 Uhr  
18 : 00 Uhr




3 : 00 Uhr  
15 : 00 Uhr




8 : 00 Uhr  
20 : 00 Uhr



7 : 00 Uhr  
19 : 00 Uhr



9 : 00 Uhr  
21 : 00 Uhr



2 : 00 Uhr  
14 : 00 Uhr



7 : 00 Uhr  
19 : 00 Uhr



12 : 00 Uhr  
24 : 00 Uhr

Der kleine Zeiger heißt Stundenzeiger.

Der große Zeiger heißt Minutenzeiger.

